

Проверочная работа по ГЕОГРАФИИ

7 КЛАСС

Демонстрационный вариант

Инструкция по выполнению работы

На выполнение работы по географии даётся 60 минут. Работа включает в себя 10 заданий.

Ответы на задания запишите в поля ответов в тексте работы. В случае записи неверного ответа зачеркните его и запишите рядом новый.

При выполнении работы не разрешается пользоваться учебником, рабочими тетрадями, атласом и другим справочным материалом.

При необходимости можно пользоваться черновиком. Записи в черновике проверяться и оцениваться не будут. Для выполнения заданий с использованием карт Вам потребуются линейка и карандаш.

Советуем выполнять задания в том порядке, в котором они даны. В целях экономии времени пропускайте задание, которое не удаётся выполнить сразу, и переходите к следующему. Если после выполнения всей работы у Вас останется время, то Вы сможете вернуться к пропущенным заданиям.

Желаем успеха!

Задание 1 выполняется с использованием карты мира, приведённой на следующей странице.

1

Рассмотрите карту мира. На ней буквами А и Б отмечены два материка.

1.1. Запишите названия материков в соответствующее поле.

Название материка (А) :


Название материка (Б) :



1.2. С каким из названных Вами материков связаны открытия путешественников и исследователей, изображённых на портретах? Укажите название материка.



А. Тасман

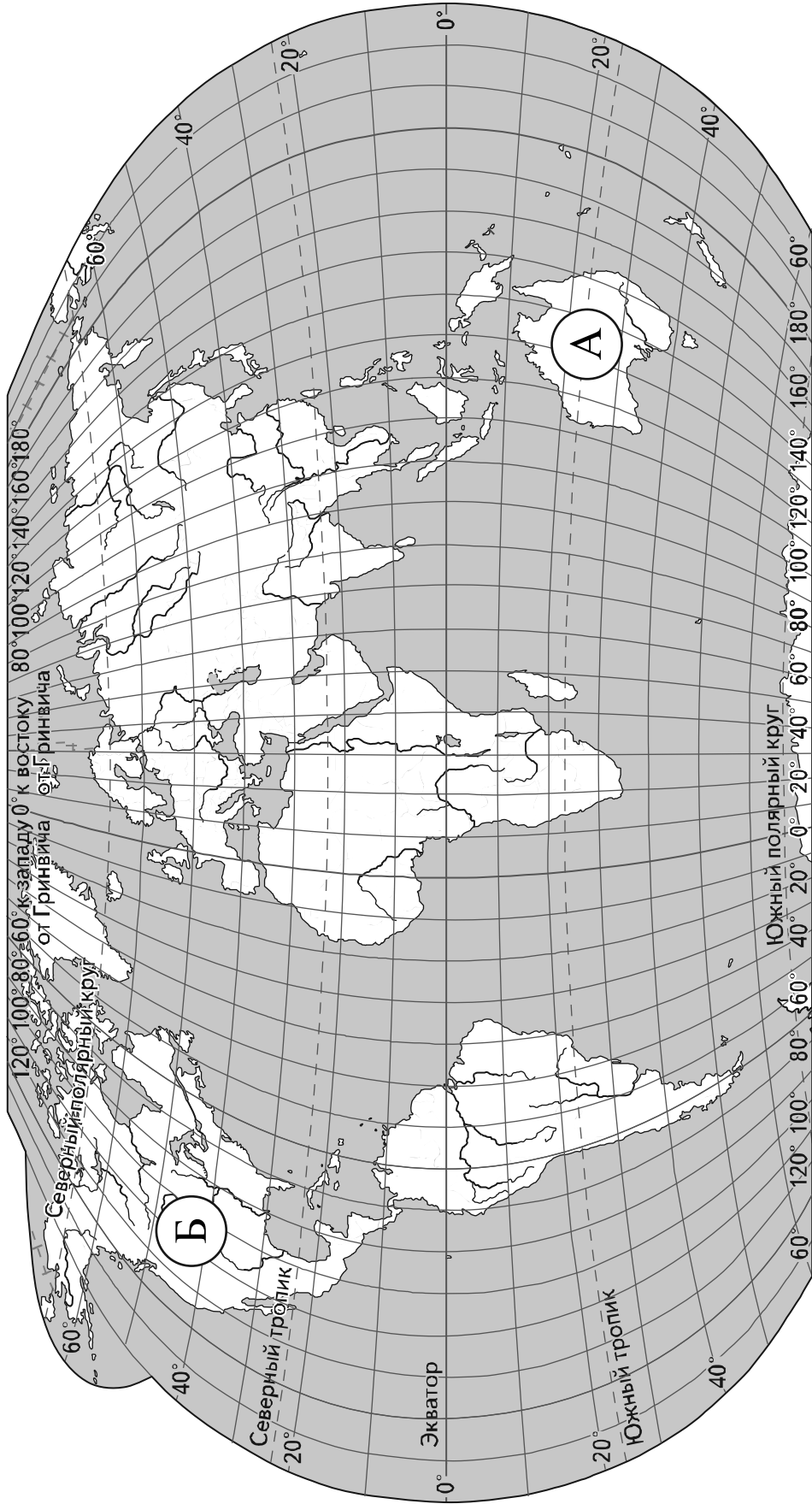


Н.Н. Миклухо-Маклай

Ответ: _____



Подпишите на карте океаны, омывающие берега указанного выше материка.



Задание 2 выполняется с использованием карты мира, приведённой на предыдущей странице.

2. 2.1. Поставьте точки на карте по приведённым ниже координатам. Обозначьте эти точки соответственно цифрами 1 и 2.

Точка 1 – 19° ю. ш. 45° в. д.

Точка 2 – 43° с. ш. 45° в. д.

В каком направлении от точки 1 расположена точка 2?

Ответ. _____

2.2. Точка 1 расположена на территории крупного географического объекта. Прочитайте текст, рассмотрите космический снимок и укажите название этого географического объекта.

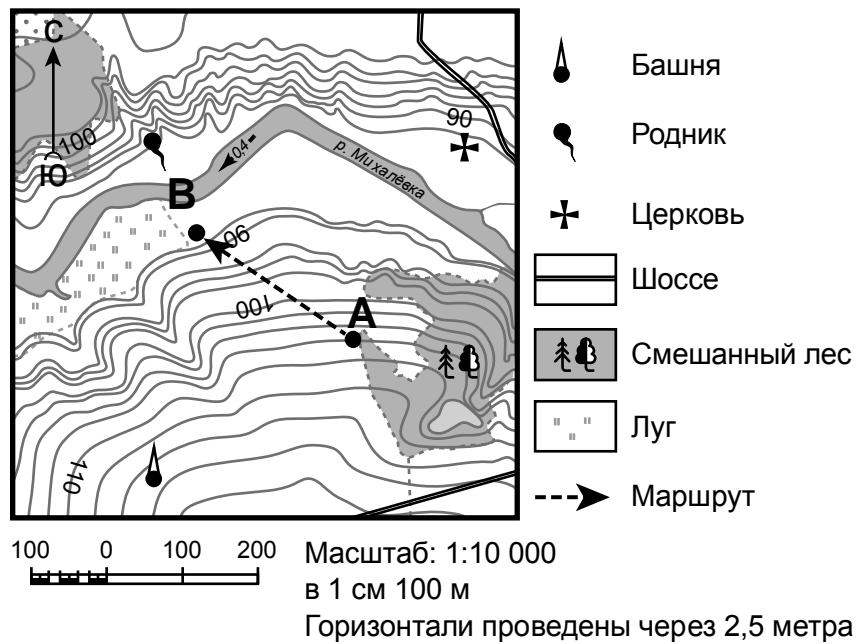
Это четвёртый по величине остров мира. Он расположен к востоку от Африки и отделён от неё широким проливом. В центральной части острова расположено высокогорное плато, круто обрывающееся в сторону Индийского океана. Остров уникален по составу растительного и животного мира. Здесь обитают животные, которых нет больше нигде на планете, например лемуры и некоторые виды хамелеонов.

Ответ. _____



Задание 3 выполняется с использованием приведённого ниже фрагмента топографической карты.

3



3.1. На каком берегу реки Михалёвки находится церковь?

Ответ. _____



В каком направлении от церкви расположен родник?

Ответ. _____



3.2. Какова протяжённость проложенного на карте маршрута А–В? Для выполнения задания используйте линейку. Расстояние измеряйте по центрам точек.

Ответ. _____

3.3. Какой из изображённых на фотографиях объект может быть сооружён на участке, по которому проходит маршрут А–В? Обоснуйте свой ответ.



А – футбольное поле



Б – санный спуск



Ответ. Объект: _____

4

4.1. Разница во времени между Санкт-Петербургом и Якутском составляет **+6 часов**. На рисунках представлены показания часов в Санкт-Петербурге и Якутске в тот момент, когда в Санкт-Петербурге **5 часов вечера**. Запишите под каждым рисунком, как отображается то же самое время на электронных часах в этих городах.

САНКТ-ПЕТЕРБУРГ

ЯКУТСК

4.2. Настя живёт в городе Санкт-Петербург. Что она делает в указанное Вами время? Используйте для ответа приведённый режим дня школьника.

Ответ. _____

4.3. Что в это же время делает её сверстница Катя, которая живёт в Якутске, если она соблюдает тот же режим дня, что и Настя?

Ответ. _____

Обоснуйте свой ответ.

Ответ. _____

РЕЖИМ ДНЯ ШКОЛЬНИКА

7.00	<i>Подъём</i>
7.05 – 7.20	<i>Утренняя зарядка</i>
7.20 – 7.30	<i>Гигиенические процедуры</i>
7.30 – 8.00	<i>Завтрак</i>
8.00 – 8.15	<i>Дорога в школу</i>
8.30 – 13.10	<i>Занятия в школе</i>
13.10 – 13.30	<i>Дорога домой</i>
13.45 – 14.15	<i>Обед</i>
14.15 – 16.15	<i>Занятия в кружках/секциях</i>
16.30 – 16.45	<i>Полдник</i>
16.45 – 18.15	<i>Выполнение домашних заданий</i>
18.15 – 19.15	<i>Прогулка на свежем воздухе</i>
19.30 – 20.00	<i>Ужин</i>
20.00 – 21.30	<i>Свободное время (чтение книг, просмотр телепередач, настольные игры)</i>
21.30 – 22.00	<i>Гигиенические процедуры и подготовка ко сну</i>
22.00 – 7.00	<i>Ночной сон</i>

Укажите, чем обусловлена разница во времени в разных частях Земли.

Ответ. _____

5

5.1. Установите соответствие между географическими особенностями и природными зонами, для которых они характерны: для этого к каждой позиции первого столбца подберите соответствующую позицию из второго столбца.

ГЕОГРАФИЧЕСКИЕ ОСОБЕННОСТИ

ПРИРОДНЫЕ ЗОНЫ

- А) устойчивый снежный покров зимой
- Б) преимущественно травянистая растительность
- В) занимает обширные равнины Африки
- Г) произрастание хвойных деревьев
- Д) занимает территорию в пределах умеренного пояса Северного полушария
- Е) местообитание зебр, жирафов, антилоп

- 1) саванны и редколесья
- 2) тайга

Запишите в таблицу выбранные цифры под соответствующими буквами.

□

Ответ:

А	Б	В	Г	Д	Е

5.2. Определите, в какой из указанных природных зон могла быть сделана каждая фотография. Подпишите названия природных зон.



□

А – _____

Б – _____

6

На метеорологической станции города N в январе были проведены наблюдения за направлением ветра. По результатам наблюдений метеорологи построили розу ветров. Рассмотрите розу ветров и ответьте на вопросы.

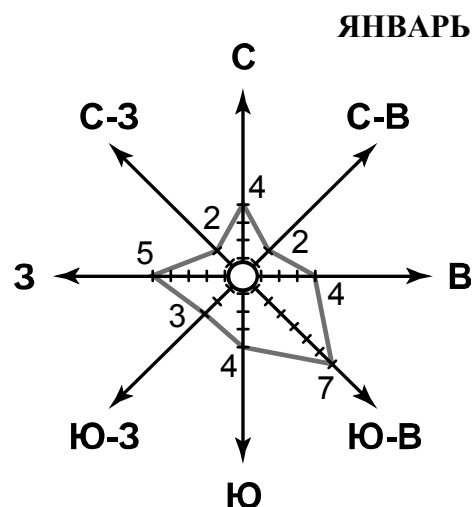
6.1. Какой ветер чаще всего дул в январе?

Ответ. _____




В каком направлении дует этот ветер?

Ответ. _____

□



6.2. На каком рисунке знаками отображена погода в тот день, когда температура воздуха опустилась ниже 10 градусов мороза? Укажите букву, которой обозначен этот рисунок. Составьте описание погоды в этот день.

А		-16 °C	74%
Б		-10 °C	56%
В		+2 °C	80%

Ответ. Рисунок: _____

7

Прочитайте текст и выполните задание.

(1)Литосфера – твёрдый верхний слой Земли. (2)В её составе земная кора и верхняя часть мантии. (3)Земная кора под океанами и континентами значительно различается: на континентах её толщина составляет 40–80 км, под океанами — 5–10 км. (4)На континентах кора состоит из трёх слоёв: слоя осадочных пород, «гранитного» слоя и «базальтового» слоя. (5)Под океанами кора двухслойная: осадочные породы залегают на «базальтовом» слое, «гранитный» слой отсутствует. (6)Литосфера расположена на пластичном слое мантии.

По каким предложениям можно сделать вывод о строении литосферы?

Запишите номера предложений.

Ответ. _____

8

8.1. Используя приведённую ниже таблицу, выполните задания.

Численность и состав населения

№	Страна	Численность населения, млн человек	Состав населения, %	
			городское	сельское
1	Австралия	25	88	12
2	Греция	11	80	20
3	Египет	95	43	57
4	Франция	65	80	20

Расположите страны в порядке **уменьшения** численности населения, начиная со страны с самой большой численностью. Запишите в ответе последовательность порядковых номеров этих стран.

Ответ. _____

В какой стране преобладает сельское население? Запишите в ответе название страны.

Ответ. _____

В каких странах доля городского населения одинакова? Запишите в ответе названия стран.

Ответ. _____

8.2. На фотографиях изображены крупнейшие города стран, указанных в таблице. Запишите под каждой фотографией название соответствующей **страны**.



А – _____



Б – _____



В – _____



Г – _____

9

Рассмотрите фотографию с изображением опасного явления природы. Запишите его название.



Природное явление – _____

Чем опасно это явление для людей? Составьте краткое описание этого природного явления (объёмом до пяти предложений).

Ответ: _____

10

10.1. Запишите название региона: республики, или области, или края, или автономного округа или города федерального значения, в котором Вы живёте.

Ответ: _____

Как называется главный город Вашего региона? / Как называется округ / муниципальный район города федерального значения, в котором расположена Ваша школа?

Ответ: _____

10.2. Какие крупные объекты гидросферы есть на территории Вашего региона? Составьте краткое географическое описание одного из них.

Ответ: _____

Система оценивания проверочной работы

Полный правильный ответ на каждое из заданий 1.1, 2.2, 3.2, 4.1, 4.2 и 5.2 оценивается 1 баллом. Если в ответе допущена хотя бы одна ошибка (один из элементов ответа записан неправильно или не записан), выставляется 0 баллов.

Полный правильный ответ на каждое из заданий 5.1, 7 и 8.2 оценивается 2 баллами. Если в ответе допущена одна ошибка, выставляется 1 балл; если допущено две или более ошибки – 0 баллов.


Номер задания	Правильный ответ
1.1	А – Австралия, Б – Северная Америка
2.2	остров Мадагаскар
3.2	250 метров
4.1	17.00; 23.00
4.2	Настя выполняет домашние задания
5.1	211221
5.2	А) тайга Б) саванны и редколесья
7	245 (в любой последовательности)
8.2	А) Франция Б) Египет В) Греция Г) Австралия

1

1.2. С каким из названных Вами материков связаны открытия путешественников и исследователей, изображённых на портретах? Укажите название материка.



А. Тасман



Н.Н. Миклухо-Маклай

Подпишите на карте океаны, омывающие берега указанного выше материка.

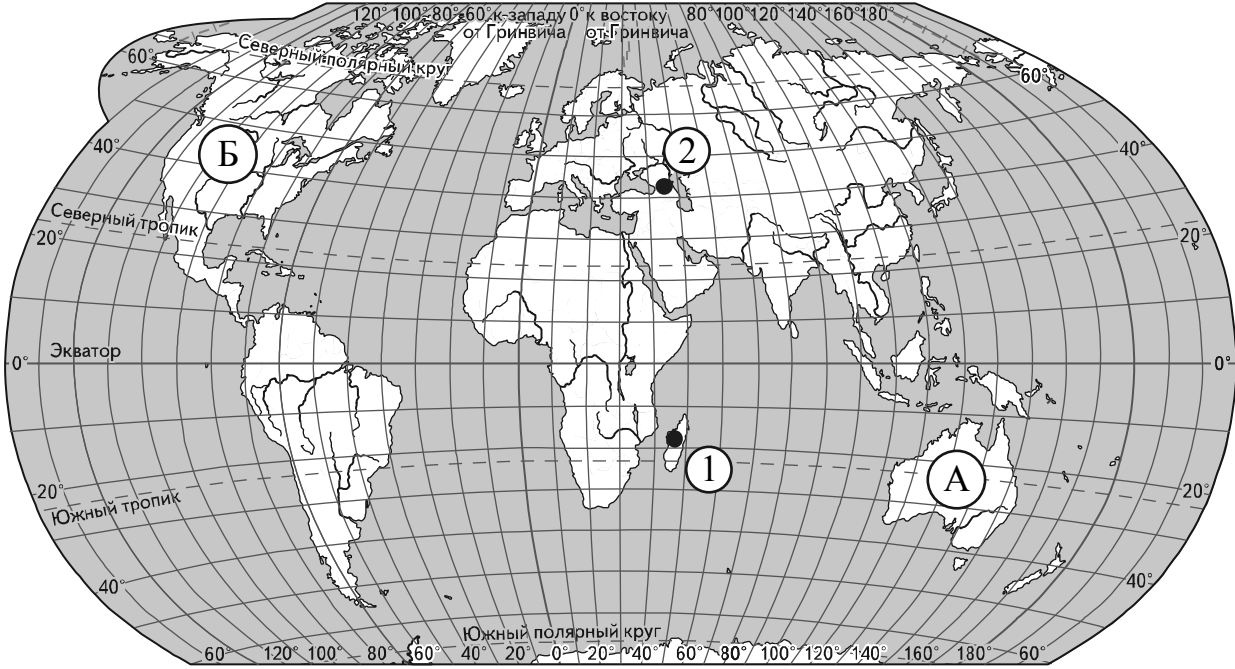
Содержание верного ответа и указания по оцениванию	Баллы
Правильный ответ должен содержать следующие <u>элементы</u> : 1) <u>название материка</u> : Австралия; 2) <u>подписи океанов на карте</u> : Индийский, Тихий	
Правильно указано название материка, подписаны два океана	2
Правильно указано название материка, подписан только один океан	1
Правильно указано только название материка, ни одно название океана не подписано / не подписано правильно. ИЛИ Название материка не указано / указано неправильно независимо от наличия/отсутствия подписи океанов. ИЛИ Ответ неправильный	0
	<i>Максимальный балл</i> 2

2

2.1. Поставьте точки на карте по приведённым ниже координатам. Обозначьте эти точки соответственно цифрами 1 и 2.

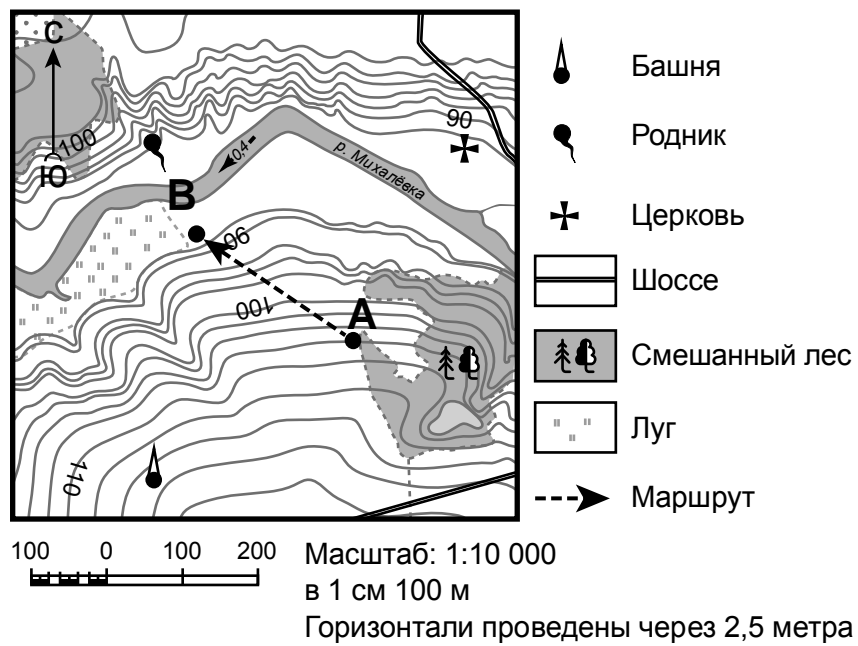
Точка 1 – 19° ю. ш. 45° в. д.
Точка 2 – 43° с. ш. 45° в. д.

В каком направлении от точки 1 расположена точка 2?



Содержание верного ответа, критерии и указания по оцениванию		Баллы
K1	Отметка двух точек на карте	1
	Две точки на карте отмечены правильно	1
	На карте правильно отмечена только одна точка / точки не отмечены / отмечены неправильно	0
	<i>Если по критерию K1 выставлен 0 баллов, то по критерию K2 выставляется 0 баллов</i>	
K2	Указание направления	1
	Направление указано правильно: в северном	1
	Направление не указано / указано неправильно	0
<i>Максимальный балл</i>		2

3



3.1. На каком берегу реки Михалёвки находится церковь?
В каком направлении от церкви расположен родник?

Содержание верного ответа и указания по оцениванию	Баллы
Правильный ответ должен содержать <u>ответы на два вопроса</u> : 1) на правом берегу; 2) в западном направлении / в направлении на запад	
Правильно даны ответы на два вопроса	2
Правильно дан ответ только на один любой вопрос	1
Ответы на вопросы не даны / даны неправильно	0
<i>Максимальный балл</i>	2

3.3. Какой из изображённых на фотографиях объект может быть сооружён на участке, по которому проходит маршрут А–В? Обоснуйте свой ответ.



А – футбольное поле



Б – санный спуск

Содержание верного ответа и указания по оцениванию	Баллы
<p>Правильный ответ должен содержать следующие <u>элементы</u>:</p> <p>1) <u>указание объекта</u>: Б – санный спуск;</p> <p>2) <u>обоснование</u>, например: маршрут проложен по склону с достаточным для санного спуска уклоном, на склоне нет никаких объектов, которые могут помешать спуску, а для сооружения футбольного поля необходим ровный участок.</p> <p>Обоснование может быть приведено в иной, близкой по смыслу формулировке</p>	
Правильно указан объект, дано обоснование	2
Правильно указан только объект	1
Объект указан неправильно независимо от наличия/отсутствия обоснования. ИЛИ Ответ неправильный	0
<i>Максимальный балл</i>	2

4

4.3. Что в это же время делает её сверстница Катя, которая живёт в Якутске, если она соблюдает тот же режим дня, что и Настя?

Обоснуйте свой ответ.

Укажите, чем обусловлена разница во времени в разных частях Земли.

РЕЖИМ ДНЯ ШКОЛЬНИКА

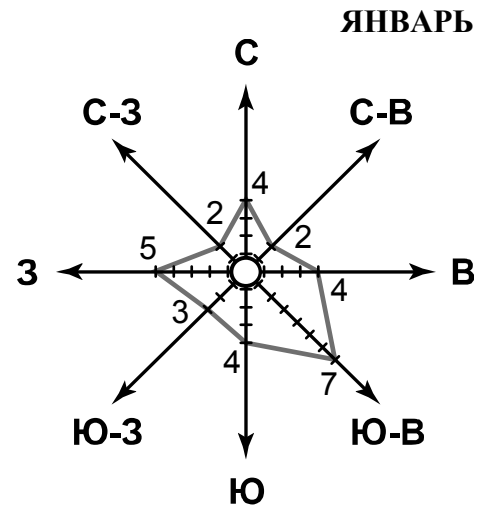
7.00	<i>Подъём</i>
7.05 – 7.20	<i>Утренняя зарядка</i>
7.20 – 7.30	<i>Гигиенические процедуры</i>
7.30 – 8.00	<i>Завтрак</i>
8.00 – 8.15	<i>Дорога в школу</i>
8.30 – 13.10	<i>Занятия в школе</i>
13.10 – 13.30	<i>Дорога домой</i>
13.45 – 14.15	<i>Обед</i>
14.15 – 16.15	<i>Занятия в кружках/секциях</i>
16.30 – 16.45	<i>Полдник</i>
16.45 – 18.15	<i>Выполнение домашних заданий</i>
18.15 – 19.15	<i>Прогулка на свежем воздухе</i>
19.30 – 20.00	<i>Ужин</i>
20.00 – 21.30	<i>Свободное время (чтение книг, просмотр телепередач, настольные игры)</i>
21.30 – 22.00	<i>Гигиенические процедуры и подготовка ко сну</i>

Содержание верного ответа и указания по оцениванию	Баллы
<p>Правильный ответ должен содержать следующие <u>элементы</u>:</p> <p>1) <u>ответ на вопрос</u>: Катя спит;</p> <p>2) <u>обоснование</u>, например: когда в Санкт-Петербурге 17 часов в Якутске 23 часа, поэтому когда Настя выполняет домашние задания, Катя уже спит.</p> <p>3) <u>указание того, чем обусловлена разница во времени</u>, например: такая разница во времени обусловлена вращением Земли вокруг своей оси.</p> <p>Обоснование и/или указание может быть приведено в иной, близкой по смыслу формулировке</p>	
Правильно дан ответ на вопрос, представлены обоснование и указание	3
Правильно дан ответ на вопрос и обоснование. ИЛИ Правильно дан только ответ на вопрос и указание	2
Правильно дан только ответ на вопрос. ИЛИ Правильно приведено только указание	1
Ответ на вопрос дан неправильно независимо от наличия/отсутствия других элементов ответа. ИЛИ Ответ неправильный	0
<i>Максимальный балл</i>	3

6

На метеорологической станции города N в январе были проведены наблюдения за направлением ветра. По результатам наблюдений метеорологи построили розу ветров. Рассмотрите розу ветров и ответьте на вопросы.

6.1. Какой ветер чаще всего дул в январе?
В каком направлении дует этот ветер?



Содержание верного ответа и указания по оцениванию	Баллы
Правильный ответ должен содержать <u>ответы на два вопроса</u> : 1) юго-восточный ветер; 2) в северо-западном направлении / в направлении на северо-запад	
Правильно даны ответы на два вопроса	2
Правильно дан ответ только на первый вопрос	1
Ответы на вопросы не даны / ответы на два вопроса даны неправильно	0
<i>Максимальный балл</i>	2

6.2. На каком рисунке знаками отображена погода в тот день, когда температура воздуха опустилась ниже 10 градусов мороза? Укажите букву, которой обозначен этот рисунок. Составьте описание погоды в этот день.

А	● * ↖	-16 °C	74%
Б	○ ↗	-10 °C	56%
В	◐ ●● ↘	+2 °C	80%

	Содержание верного ответа, критерии и указания по оцениванию	Баллы
К1	Указание рисунка	1
	Правильно указан рисунок: А	1
	Рисунок не указан / указан неправильно	0
	<i>Если по критерию К1 выставлен 0 баллов, то по критерию К2 выставляется 0 баллов</i>	

K2	Описание погоды	2
	Правильно представлено описание погоды с учётом всех показателей, отображённых на рисунке знаками, например: в этот день была пасмурная погода, шёл снег, дул юго-восточный ветер, температура воздуха была минус 16 градусов, влажность воздуха – 74%. Описание может быть приведено в иной, близкой по смыслу формулировке	2
	При описании погоды с учётом показателей, отображённых на рисунке знаками, допущена одна ошибка / не учтён любой один из показателей	1
	В описании погоды допущено две или более ошибки. ИЛИ В описании погоды не учтены два или более показателя. ИЛИ Описание погоды не представлено	0
	<i>Максимальный балл</i>	3

8

8.1. Используя приведённую ниже таблицу, выполните задания.

Численность и состав населения

№	Страна	Численность населения, млн человек	Состав населения, %	
			городское	сельское
1	Австралия	25	88	12
2	Греция	11	80	20
3	Египет	95	43	57
4	Франция	65	80	20

Расположите страны в порядке **уменьшения** численности населения, начиная со страны с самой большой численностью. Запишите в ответе последовательность порядковых номеров этих стран.

В какой стране преобладает сельское население? Запишите в ответе название страны.

В каких странах доля городского населения одинакова? Запишите в ответе названия стран.

Содержание верного ответа и указания по оцениванию	Баллы
Правильный ответ должен содержать следующие <u>элементы</u> : 1) <u>последовательность номеров стран</u> : 3412; 2) <u>ответ на первый вопрос</u> : в Египте; 3) <u>ответ на второй вопрос</u> : в Греции и во Франции	
Правильно указана последовательность номеров стран и даны ответы на два вопроса	2
Правильно указана последовательность номеров стран и дан ответ на любой один вопрос. ИЛИ Правильно даны только ответы на два вопроса	1
Правильно указана только последовательность номеров стран. ИЛИ Правильно дан ответ только на один любой вопрос. ИЛИ Ответ неправильный	0
<i>Максимальный балл</i>	2

9

Рассмотрите фотографию с изображением опасного явления природы. Запишите его название.

Природное явление – _____

Чем опасно это явление для людей? Составьте краткое описание этого природного явления (объёмом до пяти предложений).



Содержание верного ответа и указания к оцениванию		Баллы
К1	Указание опасного явления природы	1
	Правильно определено опасное явление природы: смерч/торнадо <i>При оценивании как правильный ответ засчитывается любое допустимое название данного явления</i>	1
	Опасное явление природы не определено / определено неправильно	0
	<i>Если по критерию К1 выставлен 0 баллов, то по всем остальным позициям оценивания выставляется 0 баллов</i>	
К2	Пояснение, чем опасно это явление для людей	1
	Правильно пояснено, чем опасно это явление для людей	1
	Пояснение о том, чем опасно это явление для людей, отсутствует. ИЛИ Ответ неправильный	0
К3	Описание этого природного явления <i>При оценивании в качестве правильного может быть принято описание природного явления в любом объёме</i>	1
	Описание содержит основные сведения о природном явлении. Фактических ошибок нет	1
	В описании допущены фактические ошибки. ИЛИ Приведены рассуждения общего характера, не содержащие сведений о природном явлении. ИЛИ Описание не представлено	0
		<i>Максимальный балл</i>

10

10.1. Запишите название региона: республики, или области, или края, или автономного округа или города федерального значения, в котором Вы живёте.

Как называется главный город Вашего региона? / Как называется округ / муниципальный район города федерального значения, в котором расположена Ваша школа?

Указания к оцениванию		Баллы
Правильно указаны название региона и его главный город / округ или муниципальный район города федерального значения		1
Правильно указано только название региона. ИЛИ Правильно указан только главный город регион / округ или муниципальный район города федерального значения. ИЛИ Ответ неправильный		0
<i>Максимальный балл</i>		<i>1</i>

10.2. Какие крупные объекты гидросферы есть на территории Вашего региона? Составьте краткое географическое описание одного из них.

Критерии и указания к оцениванию		Баллы
K1	Указание объектов гидросферы на территории региона	1
	Правильно указан(-ы) объект(-ы) гидросферы на территории региона. <i>При оценивании как правильный ответ засчитывается указание любого количества объектов (одного и более)</i>	1
	Объект(-ы) гидросферы на территории региона не указан(-ы) / указан(-ы) неправильно	0
	<i>Если по критерию K1 выставлен 0 баллов, то по критерию K2 выставляется 0 баллов</i>	
K2	Описание одного из объектов гидросферы	2
	Описание содержит основные географические сведения об объекте. Фактических ошибок нет	2
	Описание содержит основные географические сведения об объекте. Допущено не более двух фактических ошибок	1
	Приведены сведения, не соответствующие требованию задания	0
<i>Максимальный балл</i>		<i>3</i>

Система оценивания выполнения всей работы

Максимальный балл за выполнение работы – 37.

Рекомендации по переводу первичных баллов в отметки по пятибалльной шкале

Отметка по пятибалльной шкале	«2»	«3»	«4»	«5»
Первичные баллы	0–9	10–21	22–30	31–37